

العلامة

ابتدائية : الموسم الدراسي: 2023/2022

المستوى : الثانية ابتدائي (...) إختبار الفصل الثاني : الرياضيات

اللقب: الاسم :

النشاط الأول: أنجز العمليات التالية :

$$\begin{array}{r} 582 \\ + 216 \\ \hline = \end{array}$$

$$\begin{array}{r} 358 \\ + 124 \\ \hline = \end{array}$$

$$\begin{array}{r} 658 \\ - 543 \\ \hline = \end{array}$$

النشاط الثاني: أكمل الجدول

التفكيك	العدد	الكتابة بالحروف
347 = + +	347
953 = + +	953
528 = + +	528

النشاط الثالث: قارن العددين بوضع العلامة المناسبة: (< , >).

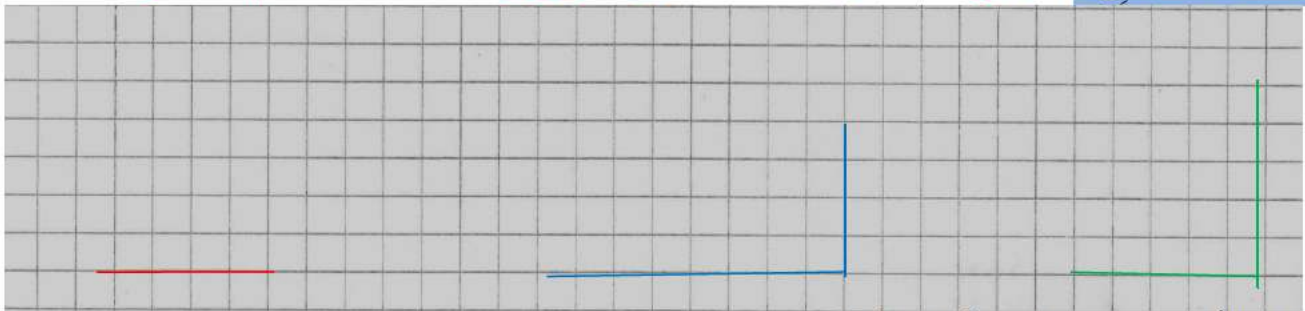
101 99

548 567

273 275

889 911

النشاط الرابع: المربع الأخضر ، المستطيل الأزرق ، المثلث القائم الأحمر.



- لون الزوايا القائمة في كل شكل .

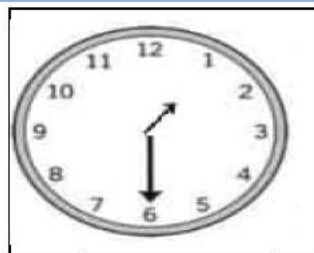
النشاط الخامس : لاحظ الساعة و أكمل :




16 : 00



5:30



.....



.....

أرسم عقربي الساعة

أكتب التوقيت بالأرقام

الوضعية الإدماجية :

ذهب سمير مع أبيه إلى المحلات الكبرى ، فزاراً جناح الألعاب ، فوجدَ جدولاً فيه قائمة اللعب وثمان كل لعبة .

اللعبة	ثمنها
	785 ديناراً
	330 ديناراً
	215 ديناراً
	365 ديناراً

- اشترى سمير كرة وسيارة . لاحظ الجدول وأكمل :

- 1 - ثمن السيارة هو ديناراً
- 2 - ثمن الكرة هو ديناراً
- 3 - ثمن الكرة والسيارة معاً هو ديناراً

.....

.....
...
.....
=

بالتوفيق يا ابنائي

الوضعية الإنمائية :

- تملك سلمى 95 ديناراً ، اشترت كراساً بـ 32 ديناراً و مقلمة بـ 40 ديناراً .
- ماهو ثمن الأدوات المدرسية ؟
- كم أرجع لها البائع ؟

<u>الجواب</u>	<u>الحل</u>	<u>العمليات</u>
..... =
- ثمن الأدوات المدرسية هو ديناراً		=
..... =
- يُرجع لها البائع ديناراً		=



بالتوفيق يا ابنائي